

Rutina matemática

Resuelve las siguientes multiplicaciones.

b. $67 \cdot 4 = 268$

c. $89 \cdot 5 = 445$

d. $73 \cdot 7 = 511$

e. $125 \cdot 8 = 1\ 000$

f. $32 \cdot 11 = 352$

Esteban tiene una huerta. En cada fila de su huerta hay 42 plantas.

Tiene 2 filas de zanahorias y 20 filas de lechugas.

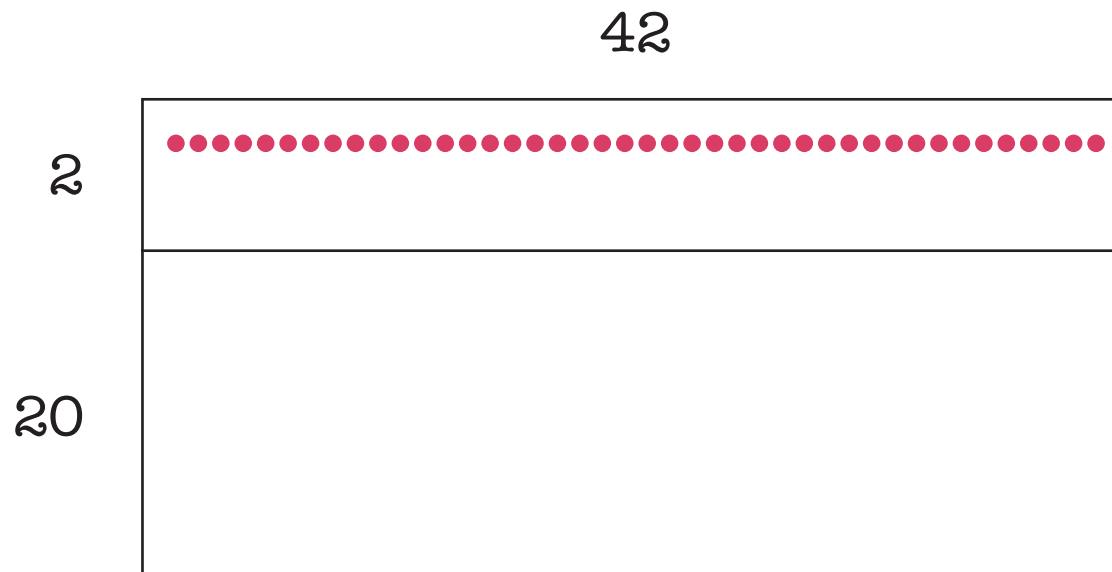
Dibuje un modelo para mostrar cuántas verduras hay plantadas en la huerta.



Esteban tiene una huerta. En cada fila de su huerta hay 42 plantas.

Tiene 2 filas de zanahorias y 20 filas de lechugas.

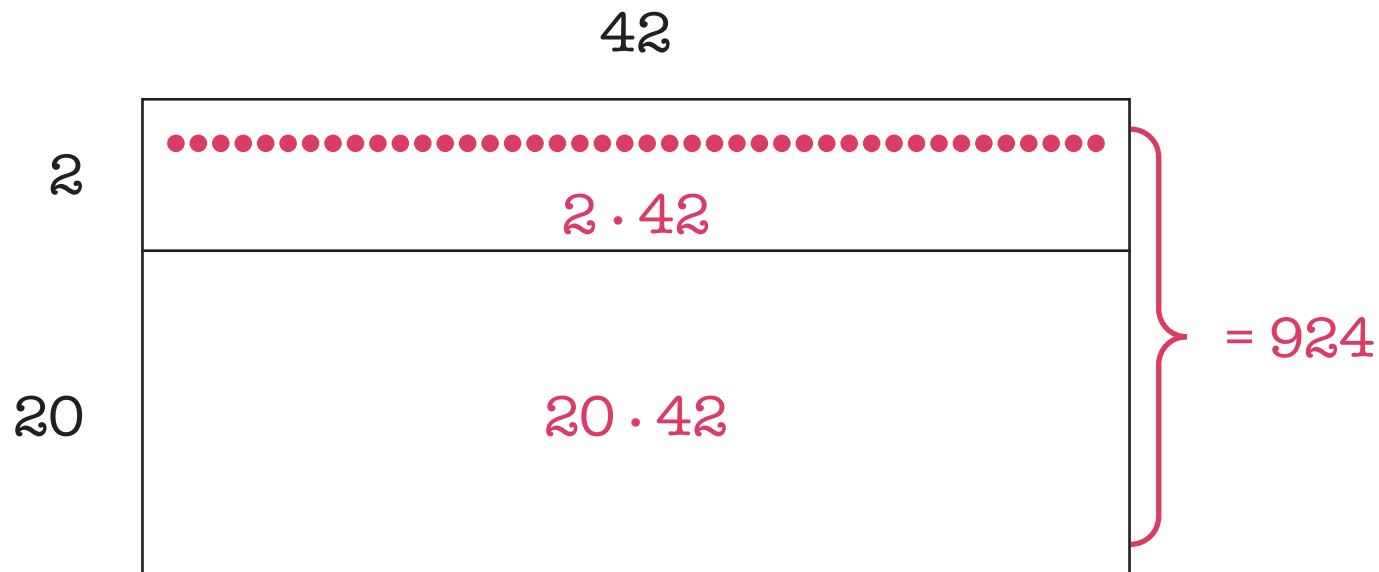
Dibuje un modelo para mostrar cuántas verduras hay plantadas en la huerta.



Esteban tiene una huerta. En cada fila de su huerta hay 42 plantas.

Tiene 2 filas de zanahorias y 20 filas de lechugas.

Dibuje un modelo para mostrar cuántas verduras hay plantadas en la huerta.



Mireya está ordenando la tienda de su mamá.

En las primeras 9 repisas puso las muñecas, 23 en cada una.

En las siguientes 20 repisas puso los peluches, 23 en cada repisa.

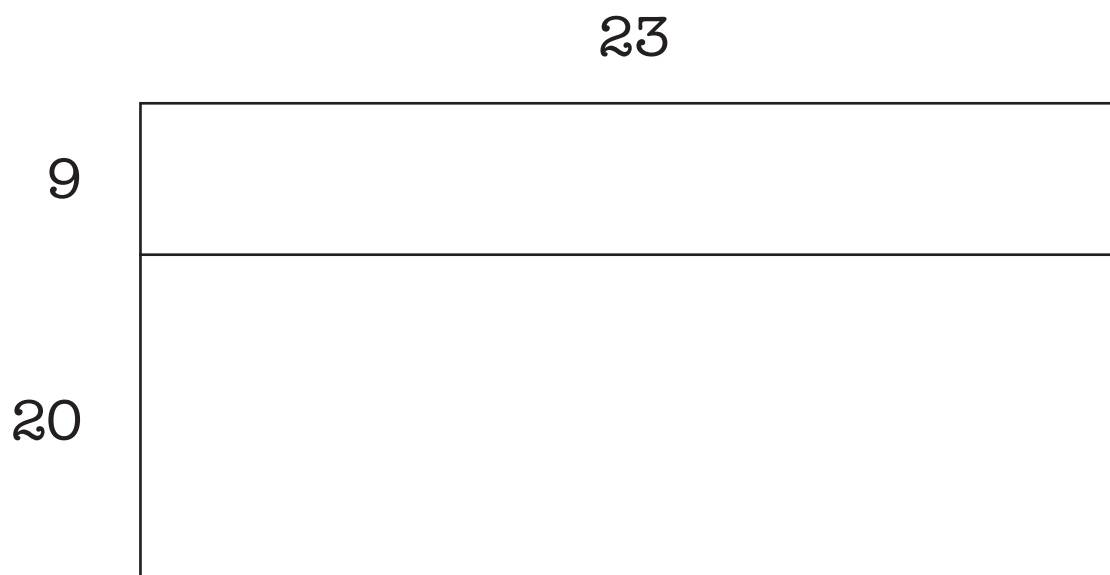
¿Cuántos juguetes ordenó?

Mireya está ordenando la tienda de su mamá.

En las primeras 9 repisas puso las muñecas, 23 en cada una.

En las siguientes 20 repisas puso los peluches, 23 en cada repisa.

¿Cuántos juguetes ordenó?



Mireya está ordenando la tienda de su mamá.

En las primeras 9 repisas puso las muñecas, 23 en cada una.

En las siguientes 20 repisas puso los peluches, 23 en cada repisa.

¿Cuántos juguetes ordenó?

